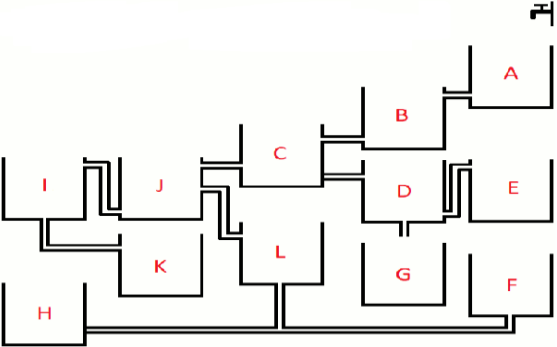


- Libri është për leximin sikurse piruni për:
  - vizatimin
  - shkrimin
  - ngrënjen
  - supen
- Cila nga opsionet e mëposhtme mund të formojë një fjalë me 5 shkronja që ka kuptim në gjuhën shqipe? (Gjindet në ftyrë)
  - D H N A U
  - G O P R A
  - K T O A
  - O L L M A
- Cila nga opsionet e mëposhtme mund të formojë një fjalë me 4 shkronja që ka kuptim në gjuhën shqipe? (Gjindet në shtëpi)
  - J G O A
  - E A D R
  - F T R Ë A
  - R A D A
- Cila nga gotat do të mbushet e para:
 

- B
- D
- E
- F

- Cili numër e kompletton më së mire analogjinë:  
8:4 është sikurse 10:
  - 3
  - 5
  - 7
  - 50

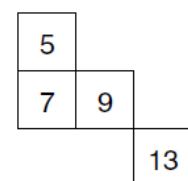
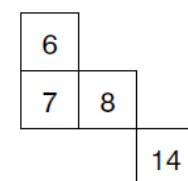
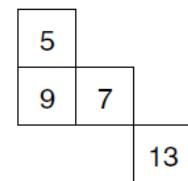
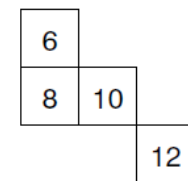
- Cili numër e kompletton më së miri analogjinë:  
2000:500 është sikurse 20:
  - 2
  - 3
  - 4
  - 5

- Cili numër vie në vend të pikëpyetjes:  
22, 21, 23, 22, 24, 23, ?
  - 22
  - 24
  - 25
  - 26

- Cili numër vie në vend të pikëpyetjes:  
21, 9, 21, 11, 21, 13, ?
  - 14
  - 15
  - 21
  - 23

- Cila nga opsionet e mëposhtme mungon në figurë?

1	2	4	7
4	?	7	10
6	?	?	12
7	8	10	?



10. Cila nga opsionet e mëposhtme ndërlidhet me fjalën GRAM?

- A) Degë
- B) Peshë
- C) Forcë
- D) Energji

11.



- A)
- B)
- C)
- D)

12. Cila fjalë nuk përshtatet me të tjerat:

- A) Dera
- B) Jastëk
- C) Tepih
- D) Automobil

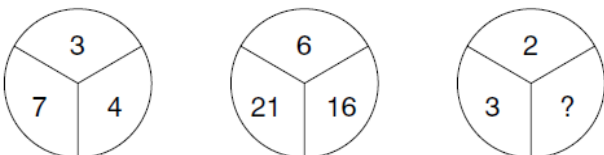
13. Cila fjalë nuk përshtatet me të tjerat:

- A) Pjatë
- B) Lugë
- C) Dritare
- D) Thikë

14. Cila fjalë nuk përshtatet me të tjerat:

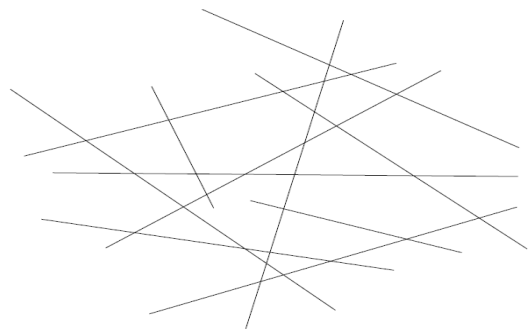
- A) Katër
- B) Pesë
- C) Gjashtë
- D) Tetë

15. Cili numër vie në vend të pikëpyetjes?




- A) 4
- B) 5
- C) 6
- D) 8

16. Sa viza gjinden mëposhtë:



- A) 10
- B) 11
- C) 28
- D) 29

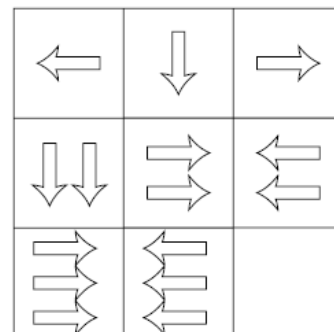
17. Cili objekt përshtatet në hapësirën boshe:



- A)
- B)
- C)
- D)



18. Cila nga opsionet e mëposhtme mungon?



- A)
- B)
- C)
- D)



19. Rona është më e moshuar se Genti

Pëllumbi është më i moshuar se Rona

Genti është më i moshuar se Pëllumbi

Nëse dy pohimet e para janë të sakta atëherë pohimi i tretë është:

- A) i saktë
- B) gabim
- C) i paqartë
- D) te dyja

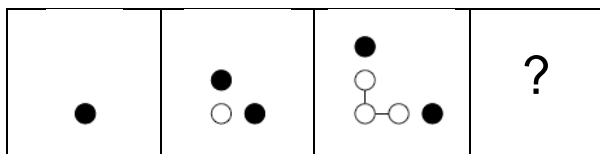
20. Një shportë frutash përmban më shumë molla se limona

Në shportë ka më shumë limona se portokaj

Shporta përmban më shumë molla se portokaj

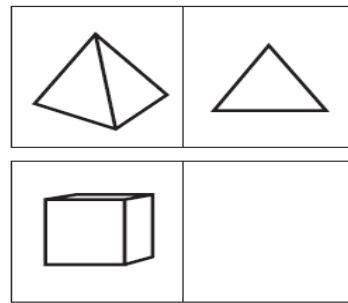
- A) i saktë
- B) gabim
- C) i paqartë
- D) te dyja

21. Çka vie pastaj?




- A) ●  
○ ○ ●
- B) ●  
○ ○ ○ ○ ○ ●
- C) ●  
○ ○ ○ ○ ○ ●
- D) ●  
○ ○ ○ ○ ○ ●

22. Çka vie pastaj?



- A)
- B)
- C)
- D)

23.



- A)
- B)
- C)
- D)

24. Shikone serinë: 2,1, 1/2, 1/4,..... Cili numër vie pastaj?

- A) 1/8
- B) 1/16
- C) 1/32
- D) 1/64

25. Shikone serinë: 201, 202, 204, 207, . . .Cili numër vie pastaj?

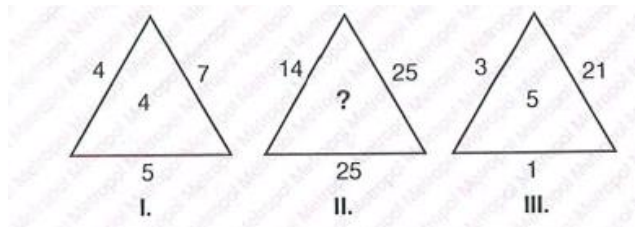
- A) 227
- B) 211
- C) 221
- D) 231

26.

$$\begin{array}{r} K \\ K \\ + K \\ \hline LK \end{array} \quad \begin{array}{r} M \\ M \\ + M \\ \hline TL \end{array} \Rightarrow K + L + M + T = ?$$

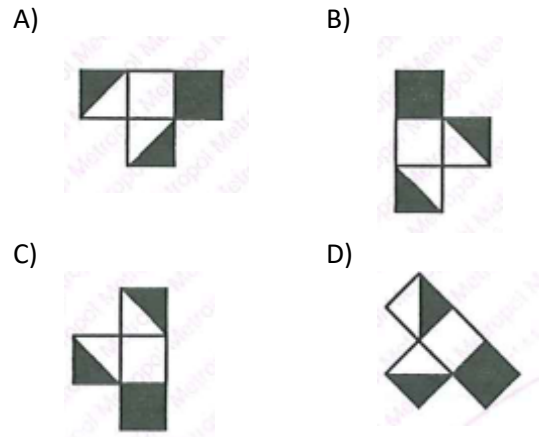
- A) 15
- B) 16
- C) 17
- D) 18

27. Çka vie në vend të pikëpyetjes?

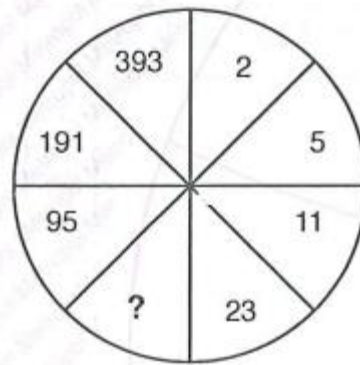


- A) 1
- B) 3
- C) 5
- D) 8

28. Cila nga figurat e mëposhtme është ndryshe:



29. Çka vie në vend të pikëpyetjes?



- A) 11
- B) 35
- C) 46
- D) 64

30. Çka vie në vend të pikëpyetjes?

- I.  $9 * 11 = 7$
- II.  $5 * 4 = 6$
- III.  $13 * 15 = 11$
- IV.  $16 * 9 = ?$

- A) 23
- B) 24
- C) 25
- D) 26