

1. Cila fjalë përshtatet më së miri në hapsirën boshe:

| Tryezë | Druri | Lisi |
|---------|---------|-------|
| Këmishë | Pëlhurë | _____ |

- A) Qepje
B) Fustan
C) Pambuk
D) Peme
2. Cila nga opsionet e mëposhtme mund të formojë një fjalë me 6 shkronja që ka kuptim në gjuhën shqipe? (është organ)
- A) I U T Ë A B
B) Q A M I L Ë
C) A Z R E M
D) O L L M A
3. Cila nga opsionet e mëposhtme mund të formojë një fjalë me 6 shkronja që ka kuptim në gjuhën shqipe? (Gjindet në shkollë)
- A) U K K M I I
B) E A D R U
C) O I P Ë A E
D) L A I O M S
4. Cila fjalë nuk përshtatet me të tjerat:
- A) Ngjalë
B) Karavidhe
C) Gaforre
D) Karkalec

5. Cili numër e kompletton më së mire analogjinë:

144:4 është sikurse 108:

- A) 3
B) 4
C) 5
D) 6

6. Cili numër e kompletton më së miri analogjinë:

144:12 është sikurse 60:

- A) 2
B) 3
C) 4
D) 5

7. Cili çift numërash vie në vend të zbrastirave:

84 78 72 66 60 54 48 ___ ___

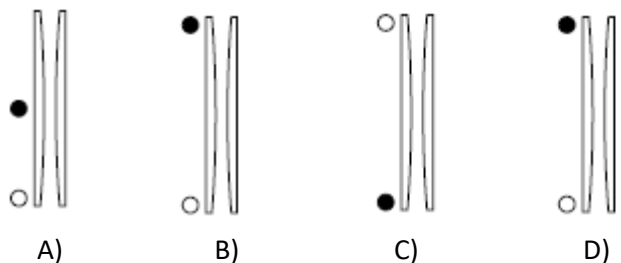
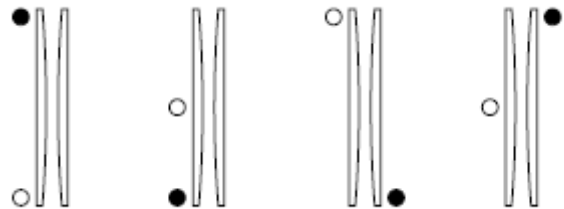
- A) 44 34
B) 42 36
C) 40 34
D) 38 48

8. Cili çift numërash vie në vend të zbrastirave:



9 12 11 14 13 16 15 ___ ___

- A) 14 13
B) 18 21
C) 14 17
D) 18 17

9. Çka vie pastaj?



10. Cila nga opsionet e mëposhtme përshtatet në zbraztirë?



A) B) C) D)

11. Cili opsion i përshtatet sekuençës së dhënë?



A) B) C) D)

12. Gjeje fjalën e cila paraqet një pjesë të nevojshme të fjalës NOHURI?

- A) Shkollë
- B) Mësues
- C) Libri shkollor
- D) Të mësuarit

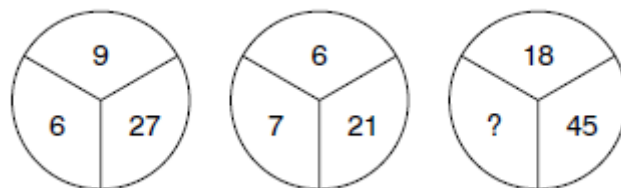
13. Gjeje fjalën e cila paraqet një pjesë të nevojshme të fjalës Dimenzion?

- A) busull
- B) vizore
- C) inç
- D) përmasë

14. Cila fjalë nuk përshtatet me të tjerat:

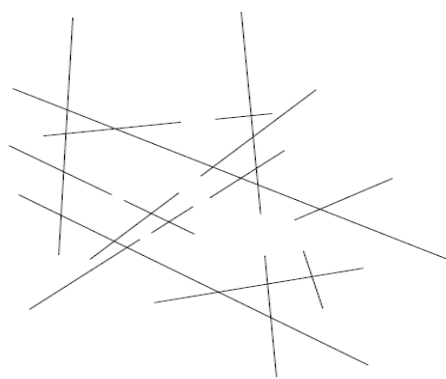
- A) Kryetar komune
- B) Avokat
- C) Senator
- D) Guvernator

15. Cili numër vie në vend të pikëpyetjes?



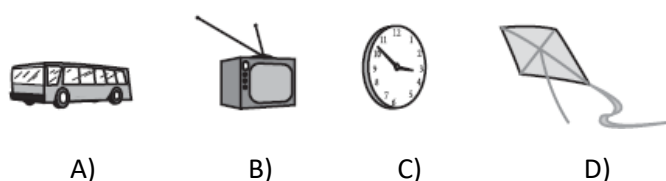
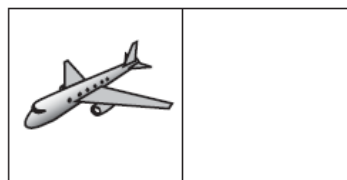

- A) 5
- B) 6
- C) 7
- D) 8

16. Sa viza gjinden mëposhtë:



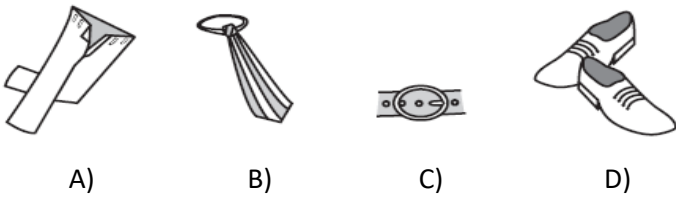
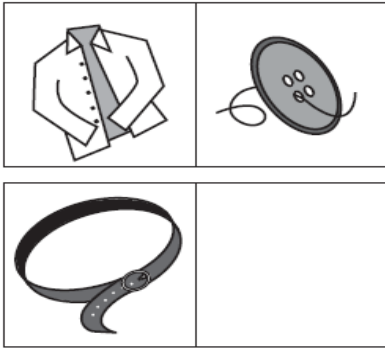
- A) 15
- B) 17
- C) 25
- D) 27

17. Cili objekt përshtatet në hapësirën boshe:



A) B) C) D)

18. Cili objekt përshtatet në hapësirën boshe?



19. Të përdorësh trenin në qytet është më shpejtë se me autobus
 Të përdorësh autobusin në qytet është më ngadalë se me veturë
 Të përdorësh trenin në qytet është më shpejtë se me veturë

Nëse dy pohimet e para janë të sakta pohimi i tretë është:

- A) saktë
- B) gabim
- C) i pacaktuar
- D) te dyja

20. Tre lapsa kushtojnë sa dy goma
 Katër goma kushtojnë sa një vizore
 Lapsat janë më shtrenjët se vizoret

Nëse dy pohimet e para janë të sakta pohimi i tretë është:

- A) saktë
- B) gabim
- C) i pacaktuar
- D) te dyja

21.

| | | | |
|-----|---|-----|-----------|
| SIR | } | 326 | ⇒ TEZ = ? |
| TEK | } | 954 | |
| MIR | } | 854 | |
| SEK | } | 976 | |
| TEZ | } | 851 | |

- A) 851
- B) 852
- C) 853
- D) 854

22.

$$\begin{array}{r} ABC4 \\ + 1A8 \\ \hline A31A \end{array} \Rightarrow B + C = ?$$

- A) 7
- B) 8
- C) 9
- D) 10

23. Çka vie në vend të pikëpyetjes?

- I. $9 \div 4 = 7$
- II. $8 \div 2 = 8$
- III. $6 \div 3 = 5$
- IV. $7 \div 4 = ?$

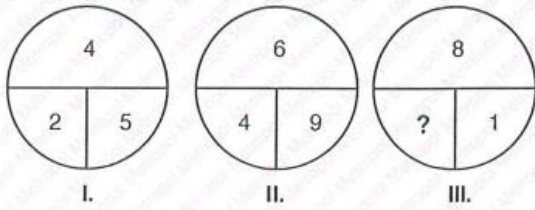
- A) 3
- B) 4
- C) 5
- D) 6

24. Çka vie në vend të pikëpyetjes?

- I. $7 \times 9 = 17$
- II. $12 \times 3 = 16$
- III. $4 \times 17 = 22$
- IV. $11 \times 14 = ?$

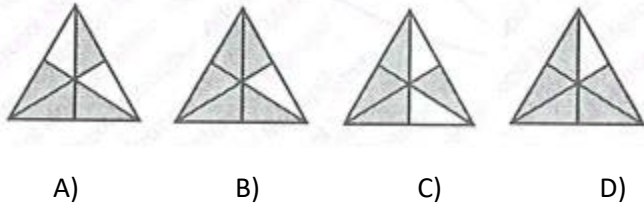
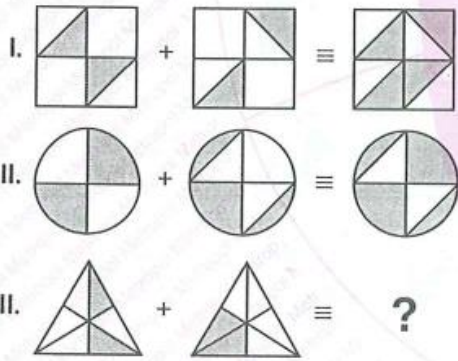
- A) 26
- B) 25
- C) 24
- D) 23

25. Çka vie në vend të pikëpyetjes?

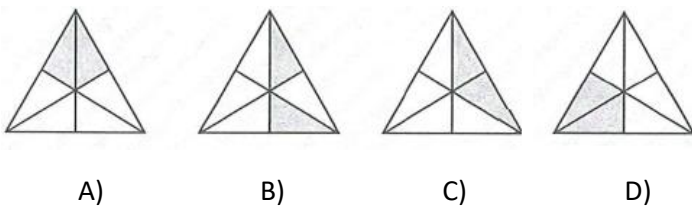


- A) 8
- B) 9
- C) 10
- D) 11

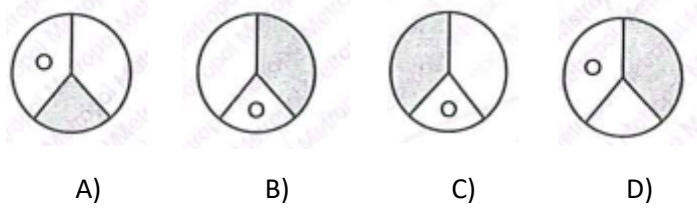
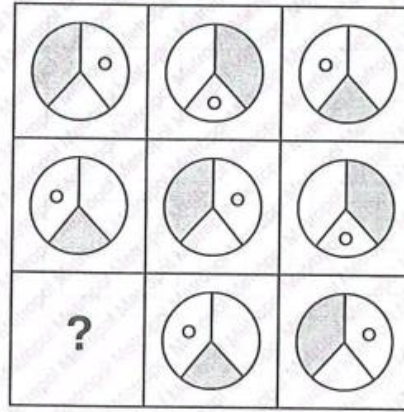
26.



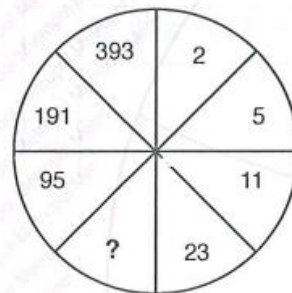
27. Gjej figurën me formën ndryshe



28.

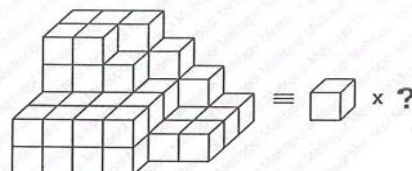


29. Çka vie në vend të pikëpyetjes?



- A) 11
- B) 35
- C) 46
- D) 64

30.



- A) 51
- B) 52
- C) 53
- D) 54