

1. Cila fjalë nuk përshtatet me të tjerat?

- A) Aorta
- B) Zemra
- C) Mëlqia
- D) Lukthi

2. Cila fjalë nuk përshtatet me të tjerat?

- A) i pandehur
- B) prokuror
- C) gjykim
- D) gjyqtar

3. Cila nga opsionet e mëposhtme mund të formojë një fjalë me 6 shkronja që ka kuptim në gjuhën shqipe?

- A) LL SH K O
- B) E A D R U
- C) O I P Ë A E
- D) L A I O M S

4. Shiko serinë: 2,6,18,54,... Cili numër vie pastaj?

- A) 162
- B) 216
- C) 148
- D) 108

5. Cili numër e kompletton më së mire analogjinë:

256:4 është sikurse 384:

- A) 4
- B) 5
- C) 6
- D) 7

6. Cili numër e kompletton më së miri analogjinë:

144:12 është sikurse 60:

- A) 2
- B) 3
- C) 4
- D) 5

7. Cili çift numërash vie në vend të zbraztirave:

10 34 12 31 14 28 16

- A) 26 18
- B) 25 18
- C) 31 30
- D) 38 48

8. Cili çift numërash vie në vend të zbraztirave:

32 31 32 29 32 27 32

- A) 27 34
- B) 34 27
- C) 32 25
- D) 25 32

9. Çka vie pastaj?



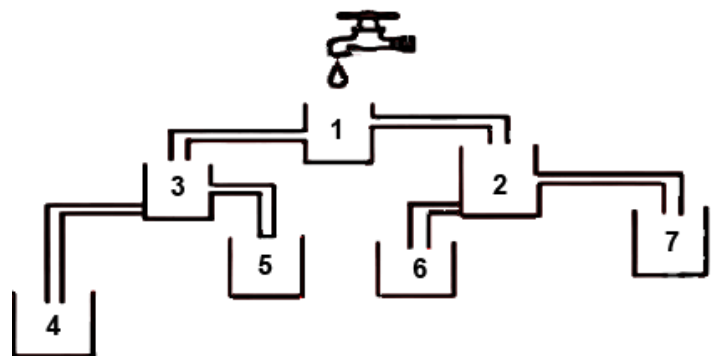
- A)
- B)
- C)
- D)

10. Çka vie pastaj?



- A)
- B)
- C)
- D)

11. Cila nga gotat do të mbushet e para:



- A) 3
- B) 4
- C) 5
- D) 6

12. Gjeje fjalën e cila paraqet një pjesë të nevojshme të fjalës LIBËR?

- A) Fiksion
- B) Faqe
- C) Mësim
- D) Fotografi

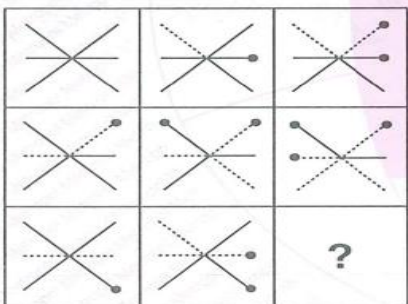
13. Gjeje fjalën e cila paraqet një pjesë të nevojshme të fjalës Rrufeja?

- A) Elektricitet
- B) Bubullimë
- C) Shi
- D) Shkelqim

14. Gjeje fjalën e cila paraqet një pjesë të nevojshme të fjalës Diplomë?

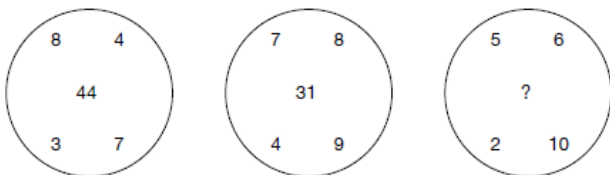
- A) Drejtor
- B) Diplomim
- C) Kurrikulum
- D) Punësim

15. Cili objekt përshtatet në hapësirën boshe?




- A)
- B)
- C)
- D)

16. Cili numër vie në vend të pikëpyetjes?




- A) 32
- B) 38
- C) 42
- D) 48

17. Cili objekt përshtatet në hapësirën boshe?




- A)
- B)
- C)
- D)

18. Cili objekt përshtatet në hapësirën boshe?



- A)
- B)
- C)
- D)

19. Cili objekt përshtatet në hapësirën boshe?



- A)
- B)
- C)
- D)

20. Rona është më e gjatë se Genti por më e shkurtër se Pëllumbi.

Lina është më e shkurtër se Pëllumbi por më e gjatë se Rona

Genti është më i gjatë se Pëllumbi

Nëse dy pohimet e para janë të sakta, pohimi i tretë është:

- A) i saktë
- B) gabim
- C) i pacaktuar
- D) te dyja

21. Mira është ulur në bankë prapa Jonit

Joni është ulur prapa Rronit

Rroni është i ulur prapa Mirës

Nëse dy pohimet e para janë të sakta, pohimi i tretë është:

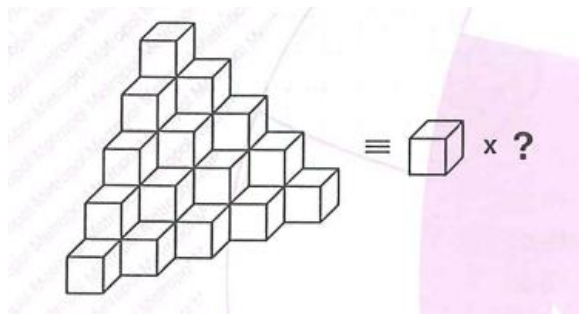
- A) i saktë
- B) gabim
- C) i pacaktuar
- D) te dyja

22.

$$\begin{array}{r} K \\ + K \\ \hline M \end{array} + \begin{array}{r} L \\ + L \\ \hline N \end{array} \Rightarrow M \times N = ?$$

- A) 23
- B) 24
- C) 45
- D) 63

23.



- A) 32
- B) 33
- C) 34
- D) 35

24. Çka vie në vend të pikëpyetjes?

I. $7 \otimes 9 = 17$

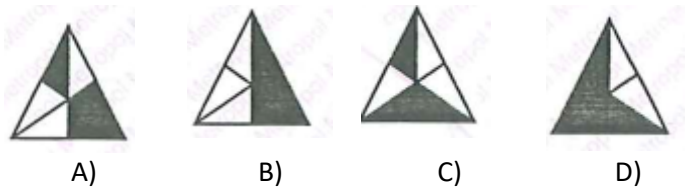

II. $12 \otimes 3 = 16$

III. $4 \otimes 17 = 22$

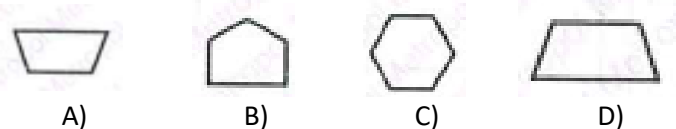

IV. $11 \otimes 14 = ?$

- A) 26
- B) 25
- C) 24
- D) 23

25. Çka vie në vend të pikëpyetjes?



26.



27.

I. $98 \clubsuit 14 = 12$

II. $76 \clubsuit 91 = 3$

III. $84 \clubsuit 32 = 7$

IV. $67 \clubsuit 82 = ?$

- A) 3
- B) 4
- C) 5
- D) 6

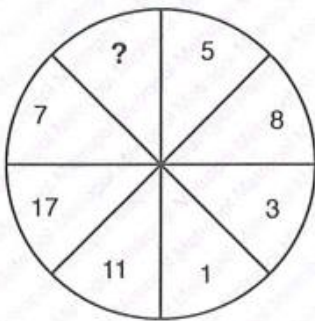
28.

I. $a \blacktriangle b = a + 2 \cdot b$

II. $4 \blacktriangle 3 = ?$

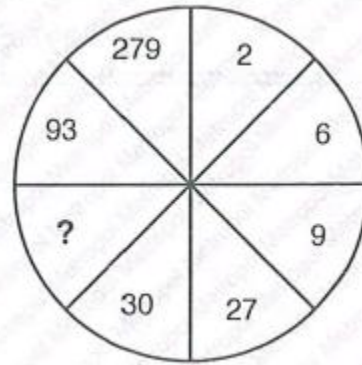
- A) 10
- B) 9
- C) 8
- D) 7

29. Çka vie në vend të pikëpyetjes?



- A) 2
- B) 3
- C) 10
- D) 11

30.



- A) 16
- B) 33
- C) 90
- D) 108